
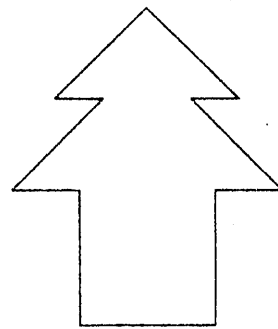
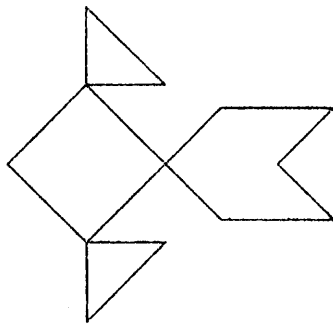


ねん くみ なまえ ( )

## いろいろな形

1  の形をした いろいろいたを 10まい ならべて つぎの形を つくり  
ました。

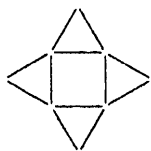
どのように ならべたのでしょうか。



2 ぼうで いろいろな 形を つくりました。

△ や□は いくつあるでしょうか。

(1)

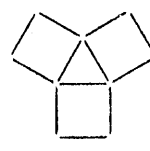


が ( ) つ



が ( ) つ

(2)



が ( ) つ



が ( ) つ

3 ちゃづつを まうえや まよこ からみると どんな 形にみえますか。

きごうで かきましょう。



あ



い



う



え



お



か

まうえ ( ) まよこ ( )

2. (1) △が 4つ □が 1つ (2) △が 1つ □が 3つ 3. まうえ(か) まよこ(あ)