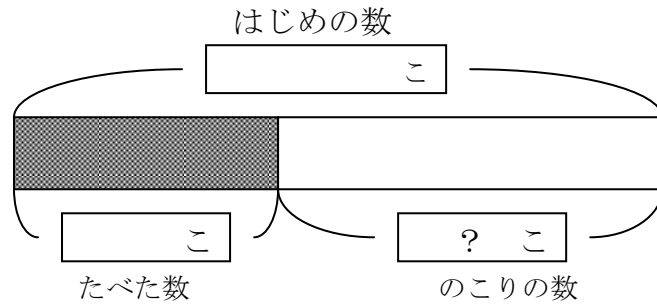


たし算とひき算 (2)

1 かきが 12こ ありました。そのうち 3こ 食べました。

(1) このことを 図に あらわしました。あてはまる 数を かき入れましょう。

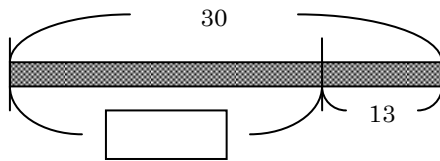
(2) のこりの 数は  
いくつでしょうか。  
(しき)



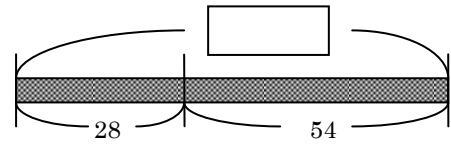
答え \_\_\_\_\_

2 つぎの 図の □ の 数をもとめて かき入れましょう。

(1) (2)



(しき)



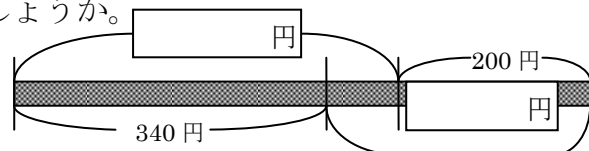
(しき)

答え \_\_\_\_\_ 答え \_\_\_\_\_

3 たけしくんは おこづかいを お父さんから 400円 お母さんから 200円 もらいました。340円のおもちゃを 買うと 何円のこるでしょう。

(1) 右の □ 円 に 数を入れます。

(2) のこった お金は いくらでしょうか。  
(しき)



答え \_\_\_\_\_

1. (1) はじめの数 12こ たべた数 3こ	(2) (しき) $12 - 3 = 9$	(答え) 9こ
2. (1) (しき) $30 - 13 = 17$	(2) (しき) $28 + 54 = 82$	
3. (1) 400円, ?円	(2) (しき) $400 + 200 - 340 = 260$	(答え) 260円