

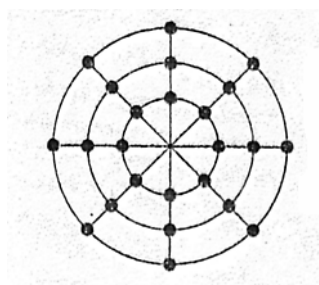
かけ算 (3)
 かけ算九九のひょう

1 かけ算九九の ひょうを 見て こたえましょう。

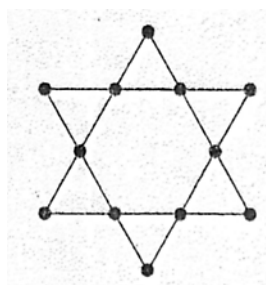
- (1) 答えが4つある九九を ひょうの中からみつけましょう。
 ()
- (2) 答えが3つある九九を ひょうの中からみつけましょう。
 ()
- (3) 答えが1つしかない九九を ひょうの中からみつけましょう。
 ()

2 つぎの図の黒丸の数を、かけ算のしきで表しましょう。

- (1) 2つのしき (2) 3つのしき




()
 ()



()
 ()
 ()

3 黒丸の数を かけ算をつかってもとめましょう。



(しき)

答え _____

1. (1) 12, 18, 24 (2) 4, 6, 8, 9, 16 (3) 1, 25, 36, 49, 64, 81
 2. (1) 3×8 , 6×4 (2) 2×6 , 3×4 , 4×3
 3. (しき) $4 \times 4 = 16$ $5 \times 16 = 5 \times 10 + 5 \times 6 = 50 + 30 = 80$ (答え) 80