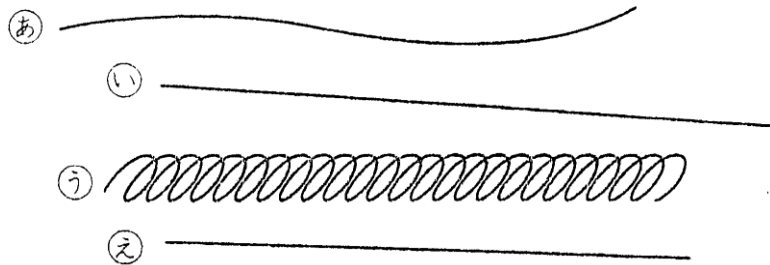


ねん くみ なまえ ( )

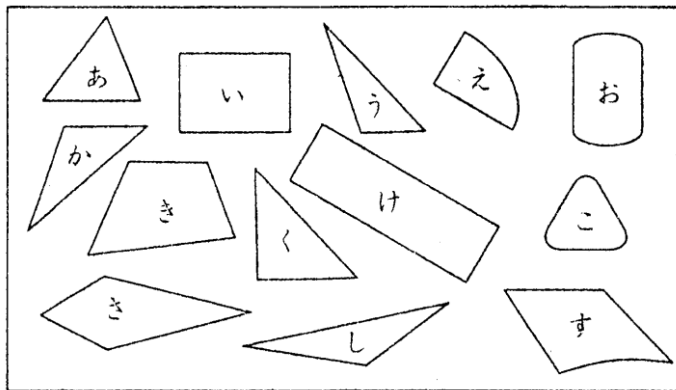
三角形と四角形

1 つぎの線のうち 直線を見つけて きごうで 答えましょう。



( )

2 三角形・四角形は どれですか。きごうで 答えましょう。

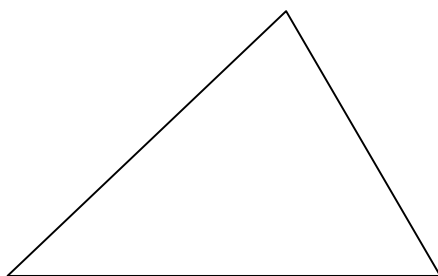


三角形  
( )

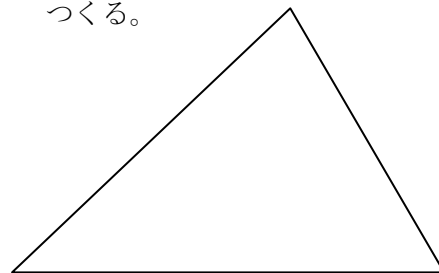
四角形  
( )

3 下の 三角形に 直線を 1本 ひいて つぎの形をつくりましょう。

(1) 三角形を 2つ つくる。



(2) 三角形を 1つと 四角形を 1つ つくる。



1. い・え

2. 三角形 → あ・う・か・く・し

3. 四角形 → い・き・け・さ

3. (1)



(2)

