

年 組名前 ()

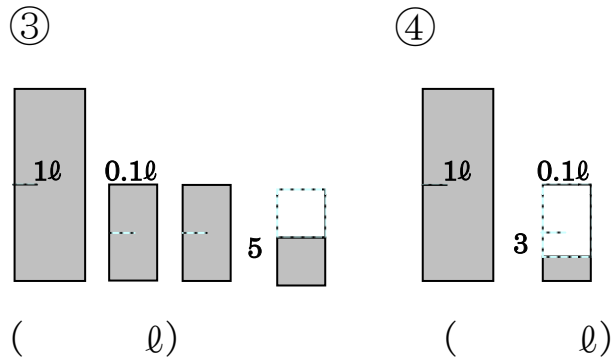
ステップ
ミニプリ **⑤小数のしくみ**

☆ □を1として、次の数をぬりましょう。

① 1.32 

② 2.09 

☆ 次のかさは何1でしょう。




⑤ ①②略 ③1.25 ④1.03

ステップ
ミニプリ **⑥小数のしくみ**

☆ □の中にあてはまる数をかきましょう。

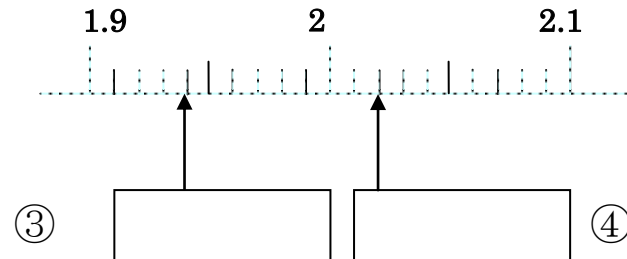
① 4.23



$1 \times \square$ $0.1 \times \square$ $0.01 \times \square$

②

$13.67 = \square \times 1 + \square \times 3$
 $+ \square \times 6 + \square \times 7$



⑥ ①4, 2, 3 ②10,1 0.1,0.01 ③1.94 ④2.02